

1er Grado

Bloque II

Examen Bimestral

Nombre del alumno:


Grado: _____ Grupo: _____ Fecha: _____

Nombre de la Escuela:

Asignatura	Reactivos	Calificación
Español	30	
Matemáticas	20	
Exploración de la Naturaleza y la Sociedad	15	
Formación Cívica y Ética	15	
PROMEDIO	80	

ESPAÑOL

➤ 1 a la 5.- Completa el crucigrama. (valor 5 puntos)



➤ 6 a la 9.- Une con una línea según corresponda. (valor 4 puntos)

El carrito



La muñeca



Las muñecas



Los carritos



➤ Observa la información, completa la tabla y contesta las preguntas.
(valor 4 puntos)

Registro de los juegos en el recreo						
Nombre del juego	L	M	M	J	V	Total
Futbol	✓	✓		✓	✓	
Carreritas		✓	✓		✓	
Escondidas	✓			✓	✓	
Saltar la cuerda			✓	✓		2
La traes	✓	✓		✓		

10.- ¿Cuál es el juego que más prefieren los niños del grupo? _____

11.- ¿Cuál es el día que jugaron menos juegos? _____

12.- ¿Qué día participaron en más juegos? _____

13.- ¿Cuál es el juego que menos prefieren los niños? _____


➤ 14 a la 19.- Escribe palabras que: (valor 6 puntos)

Comiencen igual que




tambor

Terminen igual que



camello

➤ 20 a la 24.- Utiliza el siguiente espacio para hacer la recomendación de un cuento elegido. (valor 5 puntos)

Título del cuento:	
Nombre del autor:	
¿Por qué lo recomiendas?	
	

➤ 25.- Encierra la imagen donde se leen las noticias. (valor 1 punto)



➤ 26 a la 28.- Escribe 3 secciones que contiene un periódico. (valor 3 puntos)

- Observa el periódico y subraya la respuesta correcta. (valor 2 puntos)



29.- ¿Cuál es el título de la noticia?

- a) Ganan niños primer lugar en natación.
- b) La selección infantil pierde en futbol.
- c) Niños de Jalisco ganan el torneo nacional de futbol.

30.- ¿En qué sección aparecerá esta noticia?

- a) Nacional.
- b) Deportes.
- c) Cultural.

MATEMÁTICAS

- 1 a la 3.- Colorea de rosita el animal que va en tercer lugar, con rojo al que va en quinto lugar y encierra al que va en noveno lugar. (valor 3 puntos)

- 4.- Resuelve el siguientes problema.

Ernesto tiene un corral con pollitos. Si esta mañana se le salieron 7 pollitos. ¿Cuántos le quedaron en el corral? _____

➤ **5 a la 8.- Cuenta y escribe.** (valor 4 puntos)



pesos



pesos



➤ **Observa los precios de las frutas y verduras y contesta las preguntas.** (valor 4 puntos)

9.- Mariana compró una lechuga y un kilo de zanahoria. ¿Cuánto gastó? _____

10.- Carlos tenía 17 pesos y se compró una manzana. ¿Cuánto dinero le quedó?

11.- ¿Cuánto se debe de pagar en total por 1 calabaza y 4 fresas?

12.- Javier compró una lechuga con un billetes de 20 pesos. ¿Cuánto dinero le sobró? _____

➤ **Observa el dinero que tiene Ernesto y su hermana.**

13.- Si juntaron sus ahorros, ¿Cuánto dinero tienen entre los dos?

14.- En el mercado se gastaron 15 pesos. ¿Cuánto dinero les quedó?

➤ **15 a la 17.- Resuelve las siguientes operaciones.** (valor 3 puntos)

$10 + 11 = \underline{\hspace{2cm}}$

$14 - 6 = \underline{\hspace{2cm}}$

$5 + 9 = \underline{\hspace{2cm}}$

➤ **18 a la 20.- Une con una línea si el problema se resuelve con una suma o con una resta.** (valor 3 puntos)

El payaso Pepino vende globos. Si una niña le compra 6 globos . ¿Cuántos le van a quedar?

En un corral hay 7 pollitos y en otro hay 6. ¿Cuántos pollitos hay en total en los dos corrales?


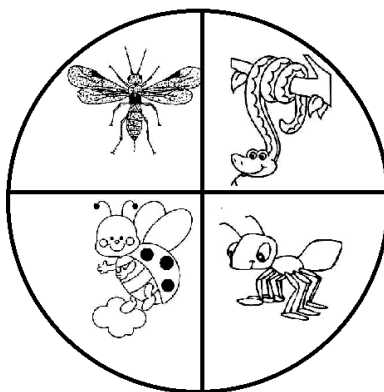

Susana tenía 20 huevos, pero utilizó 5 para hacer el desayuno. ¿Cuánto huevos tiene ahora?

EXPLORACIÓN DE LA NATURALEZA

- 1 a la 4.- Observa los cambios en la naturaleza y escribe si se trata de: **Verano, Otoño, Invierno o Primavera.** (valor 4 puntos)





- 5 a la 8.-**Recorta y ordena la secuencia.** (valor 4 puntos)

➤ 9 a la 11.-Tacha el animal que no pertenezca al grupo. (valor 3 puntos)





➤ 12.- Adivinanza. Colorea la respuesta correcta. (valor 1 punto)

Tiene un caparazón y 4 aletas que le sirven para nadar.
Vive en el mar.



➤ 13 y 14.- Colorea las plantas y animales que puedan ser de peligro. (valor 2 puntos)



➤ 15.- Colorea el recuadro con la respuesta correcta. (valor 1 punto)

Fecha en la que se festeja el inicio de la Revolución Mexicana.

16 de septiembre

13 de septiembre

20 de noviembre

FORMACIÓN CÍVICA Y ÉTICA

➤ 1 y 2.- Dibuja las expresiones de tu cara si: (valor 2 puntos)

Te quitan un juguete que te gusta.

Two simple line drawings of a girl's face and a boy's face, intended for drawing expressions.

Te dejan salir temprano al recreo.

Two simple line drawings of a girl's face and a boy's face, intended for drawing expressions.

- 3 a la 5.- Colorea con azul el círculo que contiene las actividades que realizas libremente y con rojo las que haces como parte de tus obligaciones. (valor 3 puntos)



- 6.- Escribe una de tus obligaciones en la Escuela. (valor 1 punto)

- 7 y 8.- Escribe dos injusticias que te hayan pasado en la escuela. (valor 2 puntos)

- 9 y 10.- Escribe dos injusticias que te hayan pasado en tu casa. (valor 2 puntos)

- 11 a la 15.- Observa las imágenes. Encierra con color azul si es una necesidad y con rojo si es un deseo. (valor 5 puntos)

